


1 次の文章を読んで、あとの問いに答えなさい。



(1) 本文中 I、II にあてはまる言葉を次のア～エの中からそれぞれ選び、記号で答えなさい。(各三点)

ア また イ しかし ウ まして エ このように

I	イ	II	エ
---	---	----	---

(2) 線①とあるが、具体的にどのようなものか。二十五字以内で二か所抜き出しなさい。ただし「」も一文字を含む。

(各三点)

1	「ご近所の人の顔と名前はぜんぶわかる」といった集落
2	近所に住む住人同士の関係が非常に濃厚な「ご町内」

(3) 線②とあるが、なぜそう言えるのか。その理由が書いてある段落を二つ選び、①～⑬の段落番号で答えなさい。(各三点)

9	10
---	----

(4) この文章の内容について説明した次の文の中からまちがっているものを一つ選び、ア～エの記号で答えなさい。(三点)

ウ

- ア 現代のさまざまな状況から考えると、人は誰とも付き合わず、一人で生きていくことを選ぶことができる。
- イ 地域共同体が存在していたかつての日本では、「村八分」は重要な問題であった。
- ウ 年齢が上で、地方に暮らしている人ほど、「人は一人では生きられない」と答える割合が低いと予想される。
- エ 「人は一人では生きていけない」ということについて、現在はお金で生きるために必要なサービスを受けられるので、そもそも前提が成立しない。

(5) 線について、あなたは「人は一人では生きていけない」と思うか、「人は一人でも生きていける」と思うか。本文の内容にふれた上で、自分の意見を、根拠をあきらかにして書きなさい。ただし、三文以上で書くこと。(六点)

例

② 次の問いに答えなさい。

(1) 線部のカタカナは漢字に、漢字はひらがなに直しなさい。(各二点×十)

①	キケンな場所。	①	危険	⑥	君も損な性分だね。
②	コウドウを兼ねた体育館。	②	講堂	⑦	町なみが復興する。
③	ガクシキ経験者の話を聞く。	③	学識	⑧	寺の境内で遊ぶ。
④	古着をキフする。	④	寄付	⑨	「賀正」と書く。
⑤	栄養にトむ食品。	⑤	富む	⑩	快く引き受ける。

(2) 太郎さんは、地域の山田さんに料理人の仕事についてインタビューをしています。次の会話の中で、空らんⅠ〜Ⅲに入る敬語の組み合わせとして最も適切なものをア〜オの中から一つ選び、記号で答えなさい。(三二点)

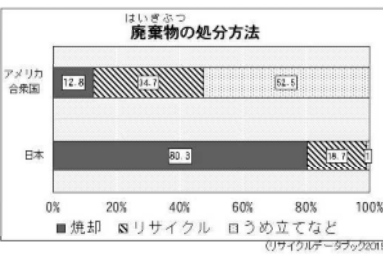
太郎さん 本日は山田さんが料理人というお仕事について教えてⅠ。山田さんがⅡ。ことをよく聞いておきましょう。
 山田さん それでは、山田さん、よろしくお願ひします。
 太郎さん 今、山田さんから説明していただきましたが、何か質問のある人はいませんか。
 花子さん 私の母が、特に山口市の郷土料理について知りたいとⅢなのですが、もう少し詳しく教えていただけませんか。

エ

- ア Ⅰ くれます
 ウ Ⅰ くださいます
 エ Ⅰ くださいます
 オ Ⅰ くださいます
- Ⅱ Ⅰ 言う
 Ⅱ Ⅰ おっしゃる
 Ⅱ Ⅰ お話しする
 Ⅱ Ⅰ 申している
- Ⅲ Ⅰ お話しになった
 Ⅲ Ⅰ 申していた
 Ⅲ Ⅰ 申していた

③ 総合的な学習の時間で、「なぜ日本のゴミの処分方法は他国に比べて焼却が多いのか」という疑問があがった。その問いを解決するために、A〜Cの資料を用いて次のような対話を行った。これを見てあとの問いに答えなさい。

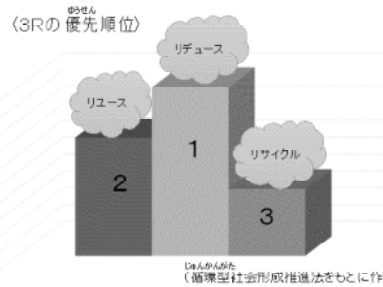
【グラフA】



【表B】

	人口 (万人)	面積 (万km ²)	人口密度 (人/km ²)
アメリカ	32716	983	33
日本	12744	38	337

【図C】



あゆみさん 【グラフA】を見ると日本ではゴミを処分する方法は「焼却」「リサイクル」「うめ立て」のうち焼却が一番多いらしいよ。一番少ないのはうめ立てだね。どうして少ないのだろう。
 けんたさん 日本にはうめ立て場が少ないと聞いたことがあるよ。アメリカはたくさんうめ立てをしているね。違いは何だろう。
 あゆみさん けんたさんの意見と【表B】を合わせて考えると、日本にうめ立て場が少ない理由は①からかもしれないね。
 けんたさん なるほど。だから、日本は焼却にたよっているのだね。ただ、もっとリサイクルの割合を増やさないといけないと思うんだけどどうかな。
 あゆみさん 世界では3R(「リデュース」「リユース」「リサイクル」)の考えが広まっているね。この3つの中では、どれが一番大切なんだろう。
 けんたさん 出てきたゴミを再生利用することで、ゴミをゴミにしないということが最も大切なのだから、取り組むべきなのは「リサイクル」じゃないのかな。
 ゆうきさん でも、【図C】によると、3つの中ではリデュースの優先順位が高いと示されているよ。
 こずえさん そうか、それなら「リデュース」に取り組むことがゴミ問題の解決には一番大切だね。

(1) 「日本にうめ立て場が少ない理由」を、①にあてはまるように書きなさい。解答らんのあとの言葉に続くように文末に気をつけること。(六二点)

日本は、アメリカに比べて人口密度が高く、埋め立てをするための土地が少ない

(2) 3Rのうち、「リデュース」の取り組みとしてあてはまるものを全て選び、記号で答えなさい。(六二点)
 ア コンビニで割りばしはもらわないようにする。
 ウ ルールを守って分別してゴミ出しをする。
 エ マイボトルを使用するようにする。

ア
 エ

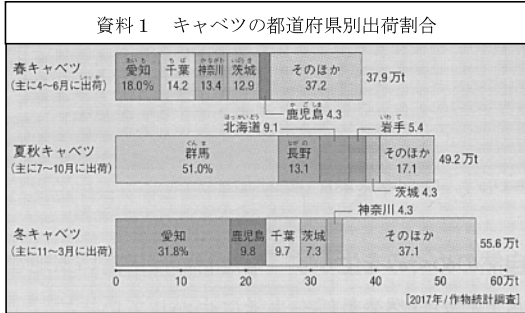
(3) 「リデュース」が優先順位が高いとされる理由を、「リユース」と「リサイクル」の特徴にふれ、会話の流れにそって②にあてはまるように書きなさい。(八二点)
 「リユース」は今あるものを再利用することで、「リサイクル」は再生利用で新たなものに生まれ変わらせて使うことだね。どちらもゴミは減るけど、そもそもゴミを出さない「リデュース」がゴミ問題の根本的な解決になるからじゃないかな。

4 日本地理について、あとの問いに答えなさい。

(1) 瀬戸内の気候は他の地域と比べて夏も冬も降水量が少ない。その理由を、地形と降水量が減るしくみにふれて答えなさい。

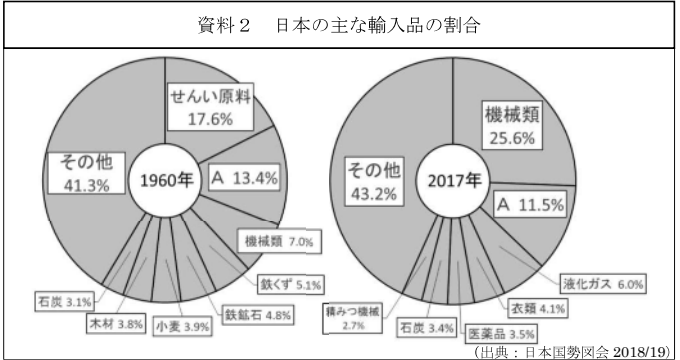
夏に南東から吹く季節風を四国山地が、冬に北西から吹く季節風を中国山地がさえぎり、乾いた風となるため。(・季節風に触れる1点、山地に触れる1点、降水量が減るしくみが書かれている1点 計3点)

(2) 夏、秋に群馬県、長野県、北海道で、キャベツの出荷がさかんである理由を、次の資料1を参考にして季節と気候条件にふれて説明しなさい。



これらの地域は、夏の涼しい気候を生かし、キャベツを生産しにくい夏時期に出荷することができるから。(・他の地域より涼しい:2点 ・夏に注目している:1点)

(3) 次の資料2は、1960年と2017年の日本の主要輸入品を示したグラフです。あとの①・②に答えなさい。



① 資料2のAにあてはまるものを次のア～オの中から1つ選び、記号で答えなさい。

- ア 砂糖 イ 鉄鋼 ウ 化学製品 エ 船舶 オ 石油

オ 2点

② 資料2を見ると、1960年から2017年の間に機械類の輸入の割合が増えていることがわかる。その理由として正しいものを、次のア～エから2つ選び、記号で答えなさい。

- ア 日本の会社が工場を海外に移し、そこで生産した製品を輸入したから。
 イ アジア諸国の工業化が進み、そこで生産した製品を輸入したから。
 ウ 資源が不足し、日本国内で製品をつくることができなくなったから。
 エ 日本の人口が急増し、国内生産だけでは製品が不足するようになったから。

ア イ 完答で4点

(4) 次の資料3は、新聞・テレビ(録画は含まない)・インターネットについて、2019年の平日1日あたりの利用時間を年代別に表している。資料のA～Cに入るメディアをそれぞれ答えなさい。

資料3	10代	20代	30代	40代	50代	60代	全体
A	167.9	177.7	154.1	114.1	114.0	69.4	126.2
B	69.0	101.8	124.2	145.9	201.4	260.3	161.2
C	0.3	1.8	2.2	5.3	12.0	22.5	8.4

(出典:総務省情報通信政策研究所「令和元年度情報通信メディアの利用時間と情報行動に関する調査」)

A: インターネット B: テレビ C: 新聞 完答で3点

5 日本の歴史について、あとの問いに答えなさい。

(1) 平城京に住む貴族が、農業をしていないにもかかわらず、豊かな食事をすることができたのはなぜか、資料4を見て、律令に定められた内容にふれて説明しなさい。



律令で定められた農民の負担のうち、租によって米が、調によって全国各地から特産品が都に送られてくるから。(・農民の負担について:2点 ・特産品が送られてくることについて:2点)

(2) 東大寺の正倉院にペルシャ文化の影響を受けた水差しやガラスの器などの宝物が見られるのはなぜか、資料5を見て説明しなさい。



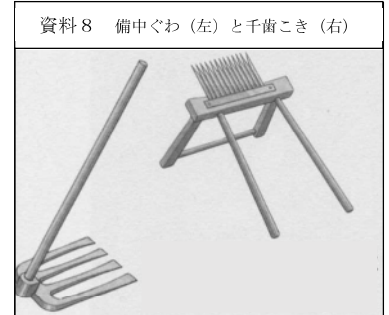
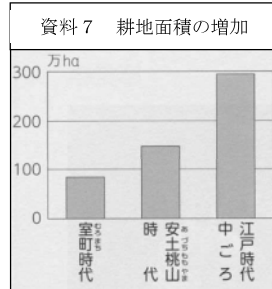
ヨーロッパやイスラム教地域へつながる交易路をもつ中国に遣唐使を派遣することで、日本にも文化が伝わったから。(・交易路をもつ中国について:2点 ・遣唐使の派遣について:2点)

(3) 地方の御家人である竹崎季長が『蒙古襲来絵詞』で元寇の記録を残させたのはなぜか、資料6を見て当時の御家人の状況にふれて説明しなさい。



幕府から十分な褒美をもらうことができなかったので、自分の活躍を記録し幕府に手柄を訴えるため。(・元寇の恩賞がなかったことについて:2点 ・手柄を訴えるため:2点)

(4) 江戸時代中ごろに農業生産量が増加した理由を、資料7・8を関連づけて説明しなさい。



新田開発によって拡大した耕地を改良した農具で効率的に作業することで農業生産量が増加した。(・新田開発が進んだことについて:2点 ・農具が改良されたことについて:1点)